





Chapitre 19 : COSINUS D'UN ANGLE AIGU

Auto-évaluation				
Dans un triangle rectangle, utiliser le cosinus pour déterminer la longueur d'un côté du triangle.				
Dans un triangle rectangle, utiliser le cosinus pour déterminer la mesure d'un angle.				
À partir du cosinus d'un angle d'un triangle rectangle, mettre en œuvre un protocole de construction de figure.				

Cette grille d'auto-évaluation vise à aider les élèves à travailler avec une certaine autonomie et n'a pas d'autre prétention. Certaines des formulations ci-dessus sont (librement) inspirées des repères annuels pour le cycle 4 et des attendus de fin d'année de 4e.